

ВСЕРОССИЙСКАЯ ОЛИМПИАДА ШКОЛЬНИКОВ
ИСТОРИЯ.2024-2025
ШКОЛЬНЫЙ ЭТАП. 7 КЛАСС
Максимальное количество баллов – 28 баллов
Время выполнения - 60 минут

Ответы к заданиям 1-10 записываются в виде одной буквы, которая соответствует правильному ответу

1. Когда состоялся съезд князей в Любече, постановивший «каждый держит отчину свою»? (1 балл)

- А) в 882 г
- Б) в 988 г.
- В) в 1097 г.
- Г) в 1147 г.

2. Чем является «Повесть временных лет»? (1 балл)

- А) записью происходивших событий, составленной по годам
- Б) литературным описанием жизни христианского святого
- В) произведением, написанным в форме торжественного обращения
- Г) русским народным эпическим сказанием

3. Укажите годы правления Ивана IV Грозного: (1 балл)

- А) 1505-1533 гг.
- Б) 1533-1584 гг.
- В) 1584-1598 гг.
- Г) 1598-1605 гг.

4. Отметьте одну из особенностей формирования самодержавия в России: (1 балл)

- А) происходило в условиях складывания крепостного права
- Б) появление парламента
- В) либеральный характер власти
- Г) соблюдение прав низшего сословия

5. Как назывался центральный сословно-представительный орган в XVI-XVII вв., созывавшийся для решения важных государственных вопросов: (1 балл)

- А) Приказ
- Б) Боярская дума
- В) Коллегия
- Г) Земский собор

6. Укажите дату присоединения Казанского ханства к Москве: (1 балл)

- А) 1552 г.
- Б) 1556 г.
- В) 1558 г.
- Г) 1565 г.

7. Сибирский поход Ермака произошёл в царствование (1 балл)

- А) Ивана Грозного
- Б) Бориса Годунова
- В) Михаила Фёдоровича
- Г) Алексея Михайловича

8. Как называлась первая русская печатная книга, изданная в 1564 г.: (1 балл)

- А) «Букварь»
- Б) «Часословец»
- В) «Синописис»
- Г) «Апостол»

9. Какой город за особое упорство монголы прозвали «злым»: (1 балл)

- А) Козельск;
- Б) Москва;

- В) Рязань;
Г) Смоленск

10. Двуглавый орел появился на гербе Руси при: (1 балл)

- А) Дмитрии Донском;
Б) Александре Невском;
В) Иване III;
Г) Иване IV.

11. Расположите события в хронологической последовательности события. (2 балла)

- А) семибоярщина и приглашение на трон королевича Владислава
Б) царствование Бориса Годунова
В) царствование Василия Шуйского
Г) принятие Соборного Уложения

12. Установите соответствие между датами и событием. (5 балла)

Дата	Событие
1) 988 г.	А) Куликовская битва
2) 1147 г.	Б) битва на Чудском озере
3) 1242 г.	В) первое летописное упоминание о Москве
4) 1380 г.	Г) введение «заповедных лет»
5) 1581 г.	Д) крещение Руси

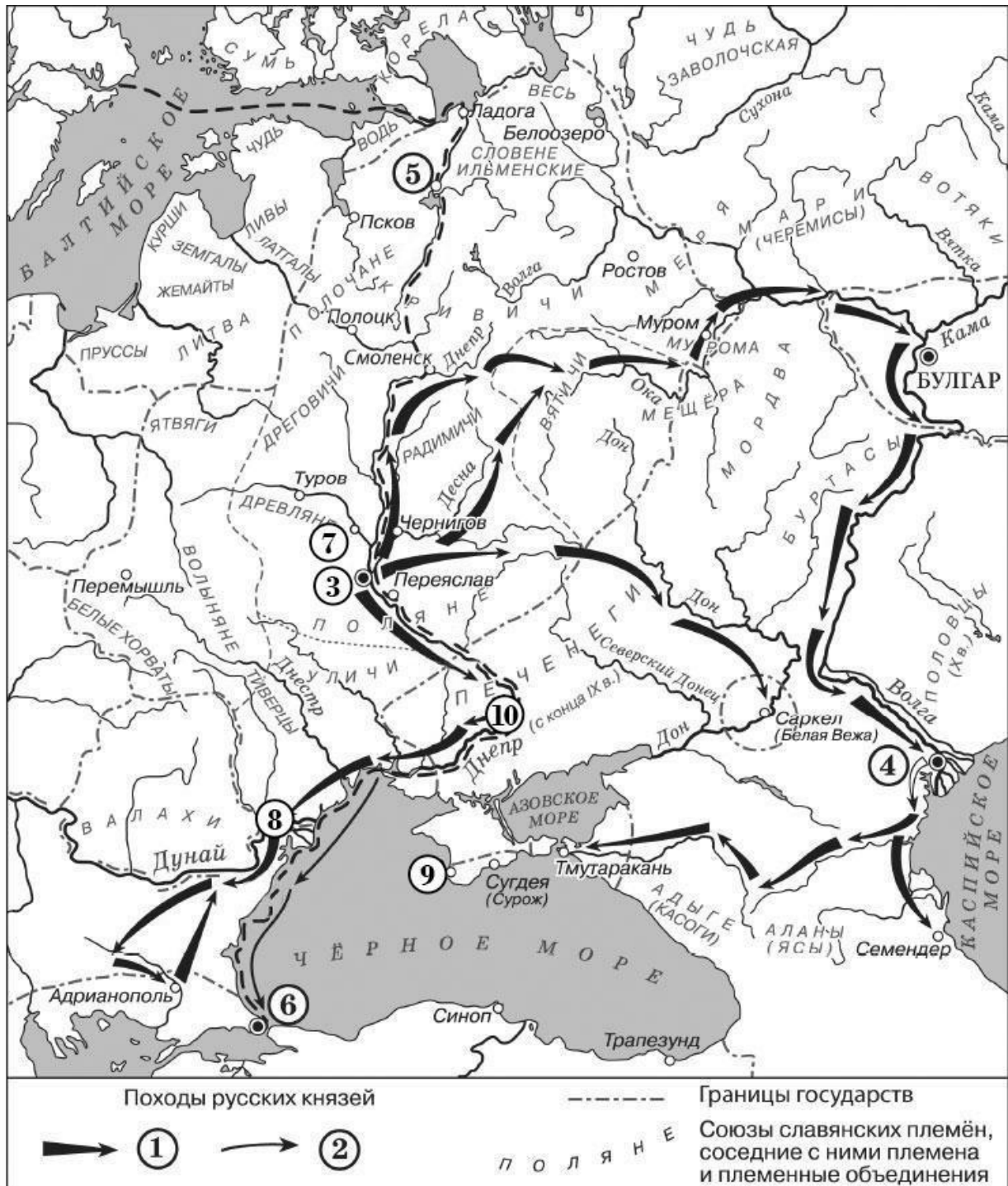
1	2	3	4	5

13. Выберите события всемирной истории, которые произошли в той же половине века, что и описанное в тексте событие.

И вот в то время, когда блаженный князь Михаил находился в Чернигове, Бог, видя, как многие обольщаются славою мира сего, послал на него благодать и дар Святого Духа и вложил ему в сердце мысль ехать к царю и обличить лживость его, совращающую христиан. Воспылав благодатью Божиею, блаженный князь Михаил решил ехать к Батыю. И, прибыв к отцу своему духовному, поведал он ему, так говоря: «Хочу ехать к Батыю». И отвечал ему духовный отец: «Многие поехавшие исполнили волю поганого, соблазнились славою мира сего, – прошли через огонь, и поклонились кусту и идолам, и погубили души свои» <...> Царь сильно разъярился, и послал одного из вельмож своих, по имени Елдега, и сказал ему: «Так передай: “Как посмел повелением моим пренебречь – почему богам моим не поклонился? Теперь одно из двух выбирай: или богам моим поклонись и тогда останешься жив и получишь княжение, или же, если не поклонись богам моим, то злой смертью умрёшь”».

1. Образование Монгольской империи
2. Первый Крестовый поход
3. Создание Великой хартии вольностей
4. Крестовый поход детей
5. Реставрация Византийской империи
6. Начало Столетней войны

За каждый верный выбор 1 балл, штраф за каждый неверный выбор 1 балл. При выборе больше 5 утверждений – 0 баллов. Максимум за задание – 3 балла.



14. Укажите номера, обозначающие географические объекты, названия которых пропущены в приведённых фрагментах исторических источников.

1. Пошёл на греков; взял же с собою множество варягов, и славян, и чуди, и кривичей, и мерю, и полян, и северян, и древлян, и радимичей, и хорватов, и дулебов, и тиверцев, известных как толмачи: этих всех называли «Великая скифь». И с этими всеми пошёл на конях и в кораблях; и было кораблей числом две тысячи. И пришёл к А; греки же замкнули Суд, а город затворили... И вернулся он в Киев, неся золото и паволоки, и плоды, и вино, и всякое узорочье.

2. Сказали руси чудь, словене, кривичи и весь: «Земля наша велика и обильна, а порядка в ней нет. Приходите княжить и владеть нами». И избрались трое братьев со своими родами, и взяли с собой всю русь, и пришли, и сел старший в Б.

3. И пришел к В, и узнал, что княжат тут Аскольд и Дир. Спрятал он одних воинов в ладьях, а других оставил позади, и сам приступил, неся младенца. И подплыл к Угорской горе, спрятав своих воинов, и послал к Аскольду и Диру, говоря им, что-де «мы купцы, идём в Греки от князя княжича. Придите к нам, к родичам своим».

4. И когда прошёл год, пошёл князь с войском на Г, город греческий, и затворились жители в городе. И стал князь на той стороне города у пристани, в расстоянии полёта стрелы от города, и сражались крепко из города. Осадил город... И вот некий муж, именем Анастас, пустил стрелу, написав на ней: «Перекопай и перейми воду, идёт она по трубам из колодцев, которые за тобою с востока». Князь же, услышав об этом, посмотрел на небо и сказал: «Если сбудется это – сам крещусь!».

5. Пришёл князь в Д, и затворились болгары в городе. И вышли болгары на битву с князем, и была сеча велика, и стали одолевать болгары. И сказал князь своим воинам: «Здесь нам и умереть: постоим же мужественно, братья и дружина!» И к вечеру одолел князь, и взял город приступом, сказав:

«Это мой город!» И послал к грекам со словами: «Хочу идти на вас и взять столицу вашу, как и этот город».

6. Древляне же, услышав, что идёт снова, держали совет с князем своим Малом и сказали: «Если повадится волк к овцам, то выносит все стадо, пока не убьют его; так и этот: если не убьём его, то всех нас погубит». И послали к нему, говоря: «Зачем идёшь опять? Забрал уже всю дань». И не послушал их князь; и древляне, выйдя навстречу ему из города Е, убили князя и дружинников его, так как было их мало. И погребён был князь, и есть могила его у города Е в Деревской земле и до сего времени.

7. Сотворив же мир с греками и пошёл в ладьях к Ж порогам. И сказал ему воевода отца Свенельд: «Пойди, князь, на конях около, стоят ибо печенеги в порогах». И не послушал его, и пошёл в ладьях. И послали переславцы к печенегам, говоря: «Идёт князь на Русь, взял богатства много у греков и полон бесчисленный, с малой дружиной». Услышав же печенеги это, заступили пороги; и стал зимовать... И не было у них еды, и был голод великий...

А	Б	В	Г	Д	Е	Ж


По 1 баллу за каждый верный выбор. Максимум за задание – 8 баллов.

15. Выберите изображение, связанное с походами, обозначенными на схеме цифрой «1».

1.




2.




3.



4.



5.



6.



За верный ответ – 1 балл.